



UNIVERSIDADES PÚBLICAS DE LA COMUNIDAD DE MADRID
PRUEBA DE ACCESO A LAS ENSEÑANZAS UNIVERSITARIAS
OFICIALES DE GRADO

Curso **2010-2011**

MATERIA: GEOGRAFÍA

INSTRUCCIONES Y CRITERIOS GENERALES DE CALIFICACIÓN

Dispone de dos opciones para contestar (A y B). **Debe escoger exclusivamente una de ellas.**

La puntuación total será en ambas opciones de **10 puntos**, correspondiendo a la primera parte **1,5 puntos**, a la segunda **4 puntos**, a la tercera **2,5 puntos** y **2 puntos** a la cuarta.

TIEMPO. Duración de la prueba: “1 hora y 30 minutos”.

OPCIÓN A

1ª Parte

Defina, en el cuadernillo adjunto, seis de los siguientes términos o conceptos geográficos, utilizando como máximo una cara del cuadernillo:

Censo demográfico, Hectopascal, Deflación, Almadraba, Escala, Interfluvio, FSE, Canchal.

Puntuación máxima: 1,5 puntos.

2ª Parte

El turismo en España.

Desarrolle, de forma sintética, el tema propuesto (utilice como máximo ambas caras de un folio) atendiendo al menos a los siguientes aspectos:

- Origen, evolución y factores que influyen en el mismo.
- Principales zonas turísticas españolas y tipos de turismo.
- Consecuencias socioeconómicas y territoriales del turismo.

Puntuación máxima: 4 puntos.

3ª Parte

Comentario de la fotografía adjunta:

Comente el paisaje de la lámina adjunta, atendiendo, al menos, a:

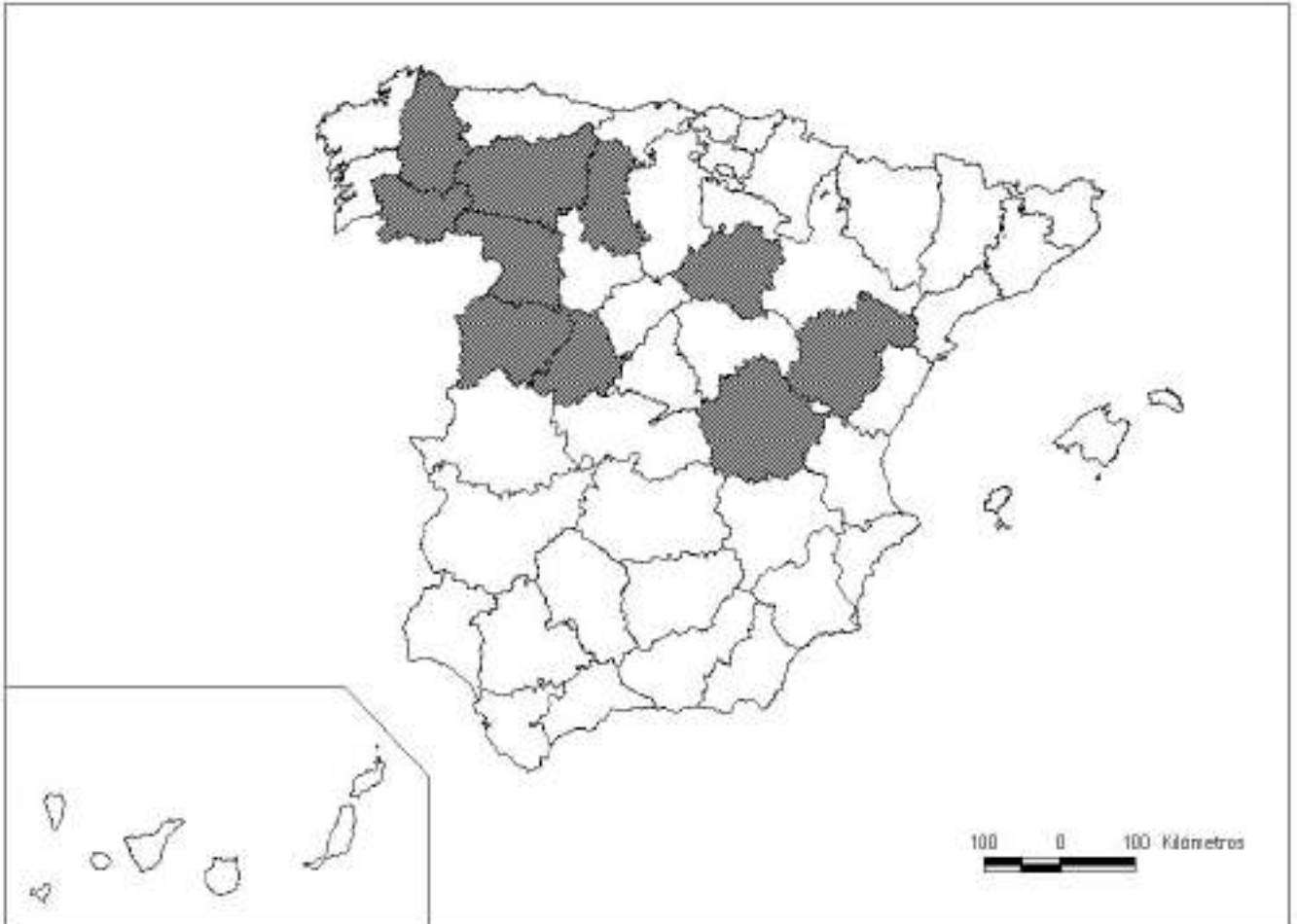
- a) Caracteres del emplazamiento.
- b) Usos del suelo y sus transformaciones recientes.
- c) Relaciones entre el soporte natural y la acción humana.

*Puntuación máxima: 2,5
puntos.*

4ª Parte

A la vista del mapa adjunto, “*Provincias con una población mayor de 64 años, superior al 22 % (media nacional igual al 16,5 %)*”, señale dichas provincias tramadas y las razones que explican esta distribución. Exponga algunas consecuencias demográficas, sociales y económicas que puedan derivarse.

Puntuación máxima: 2 puntos.



FUENTE: INE (2009).

OPCIÓN B

1ª Parte

Defina, en el cuadernillo adjunto, **seis** de los siguientes términos o conceptos geográficos, utilizando como máximo una cara del cuadernillo:

Longitud geográfica, Terraza fluvial, Área Metropolitana, Sinclinal, Caladero, Bosque atlántico, Plano ortogonal, PIB.

Puntuación máxima: 1,5 puntos.

2ª Parte

Tema: “Las formaciones vegetales de España”.

Desarrolle, de manera sintética, el tema propuesto (utilice, como máximo, ambas caras de un folio). Como indicativos se señalan los siguientes epígrafes:

- Características generales.
- Los paisajes vegetales y la diversidad fitogeográfica.
- Repercusiones socioeconómicas derivadas de su explotación.

Puntuación máxima: 4 puntos.

3ª Parte

- **Comentario del gráfico:** Realice un comentario de los gráficos adjuntos, “España: Producto Interior Bruto (1999 y 2009), por sectores económicos”; razone sus respuestas, a partir de su análisis pormenorizado, y su comparación.

Gráfico 1.

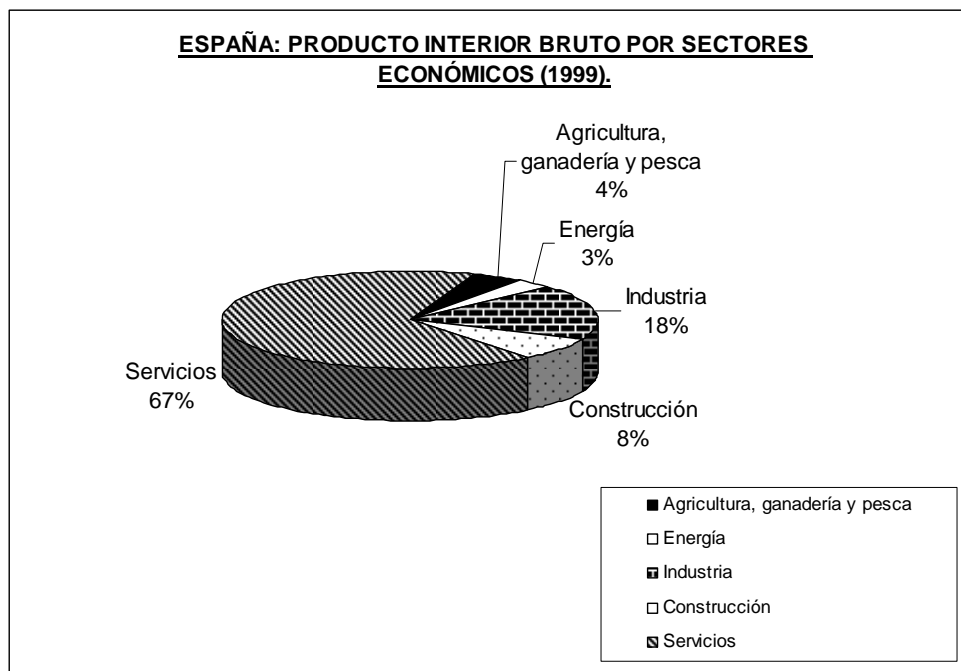
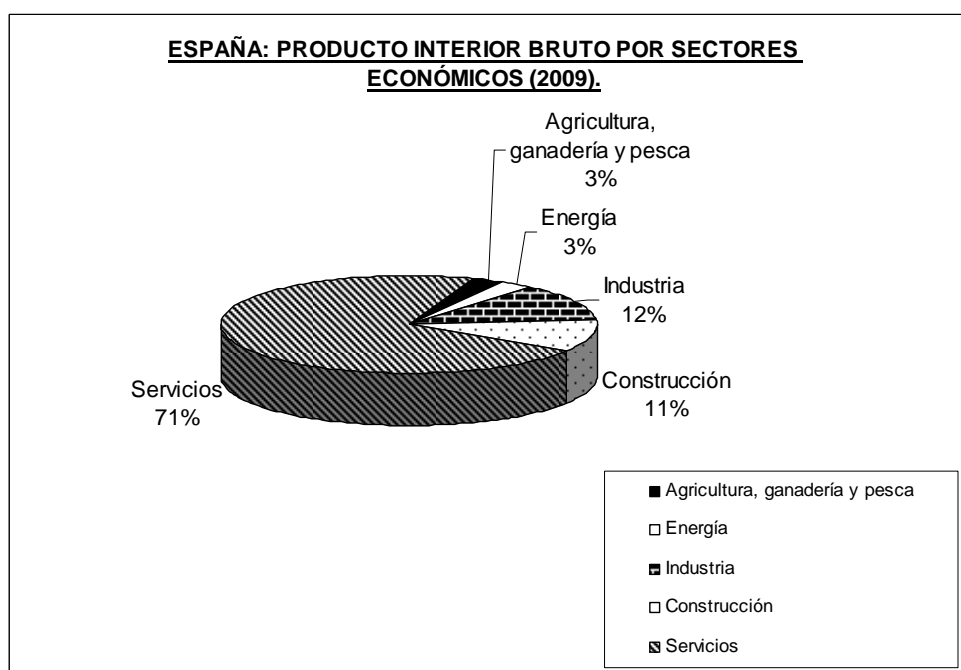


Gráfico 2.



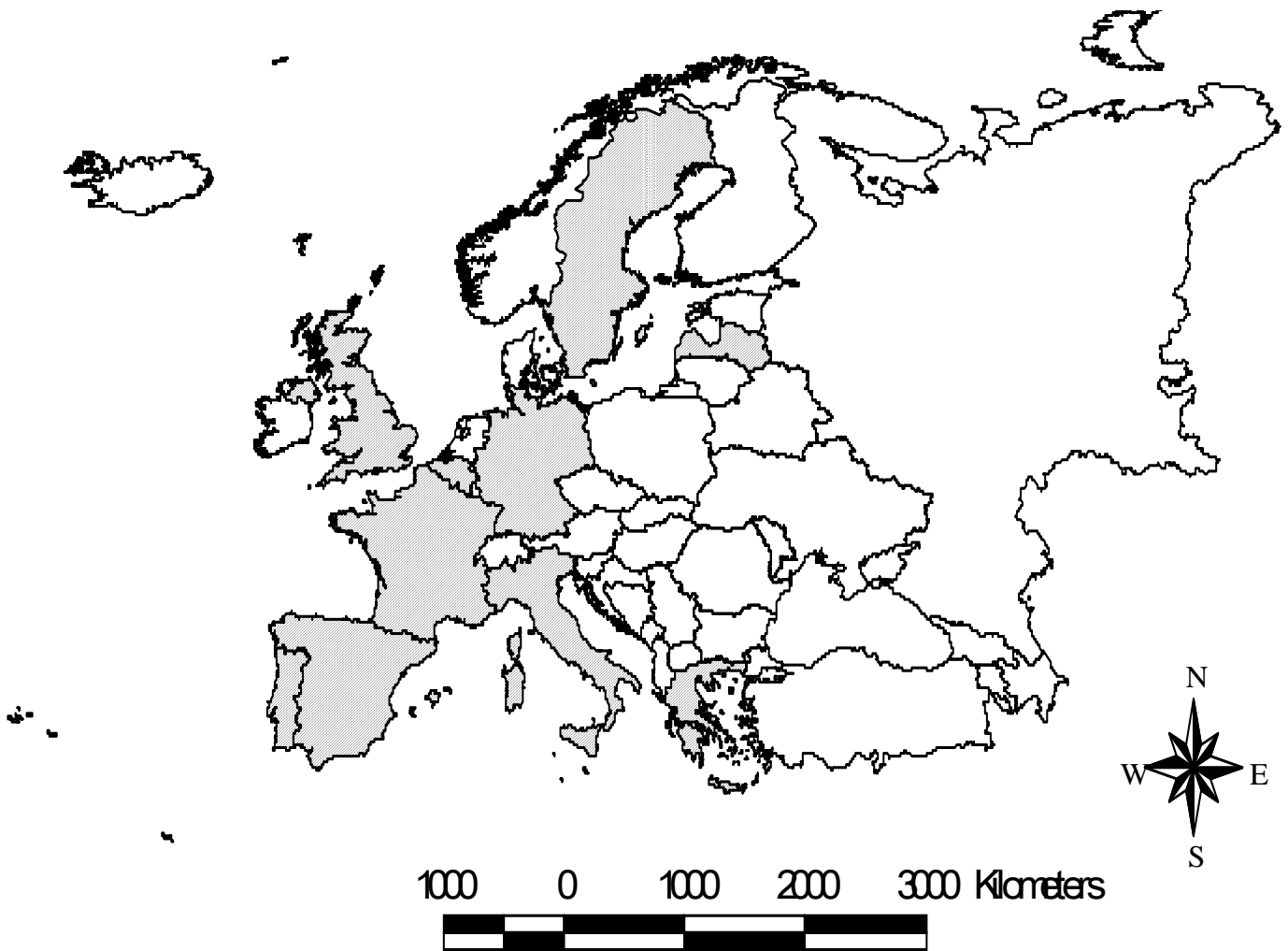
Fuente: Instituto Nacional de Estadística (INE. 2010)

Puntuación máxima: 2,5 puntos.

4ª Parte

A la vista del mapa adjunto, “*Estados de la Unión Europea con mayores porcentajes de población de más de 65 años, en 2005*”, indique el nombre de los Estados “tramados”, y de sus capitales; señale las razones que explican esta distribución y comente algunas consecuencias emanadas de este hecho.

Puntuación máxima: 2 puntos.



FUENTE: EUROSTAT (2008).

