



**UNIVERSIDADES PÚBLICAS DE LA COMUNIDAD DE MADRID**  
PRUEBA DE ACCESO A LAS ENSEÑANZAS UNIVERSITARIAS  
OFICIALES DE GRADO

Curso **2015-2016**

**MATERIA: GEOGRAFÍA**

**INSTRUCCIONES GENERALES Y CALIFICACIÓN**

Después de leer atentamente todas las preguntas, el alumno deberá escoger **una** de las dos opciones propuestas y responder a las cuestiones de la opción elegida.

**CALIFICACIÓN:** La parte 1ª se valorará sobre 1,5 puntos, la parte 2ª sobre 4 puntos, la parte 3ª sobre 2,5 puntos, la parte 4ª sobre 2 puntos.

**TIEMPO:** 90 minutos.

**OPCIÓN A**

**1ª Parte**

Defina, en el cuadernillo adjunto, **seis** de los siguientes términos o conceptos geográficos, utilizando como máximo una cara del cuadernillo:

**Parque tecnológico, Acuicultura, Curva de nivel, Xerófilo, Equinoccio, Globalización, Relieve kárstico, Tasa de mortalidad infantil.**

*Puntuación máxima: 1,5 Puntos.*

**2ª Parte Tema: Los paisajes agropecuarios españoles.**

Desarrolle, de manera sintética, el tema propuesto (utilice, como máximo, ambas caras de un folio). Como indicativos se señalan los siguientes epígrafes:

- Factores físicos y humanos que los condicionan.
- Localización de los mismos.
- Principales tipos de paisajes y cultivos.

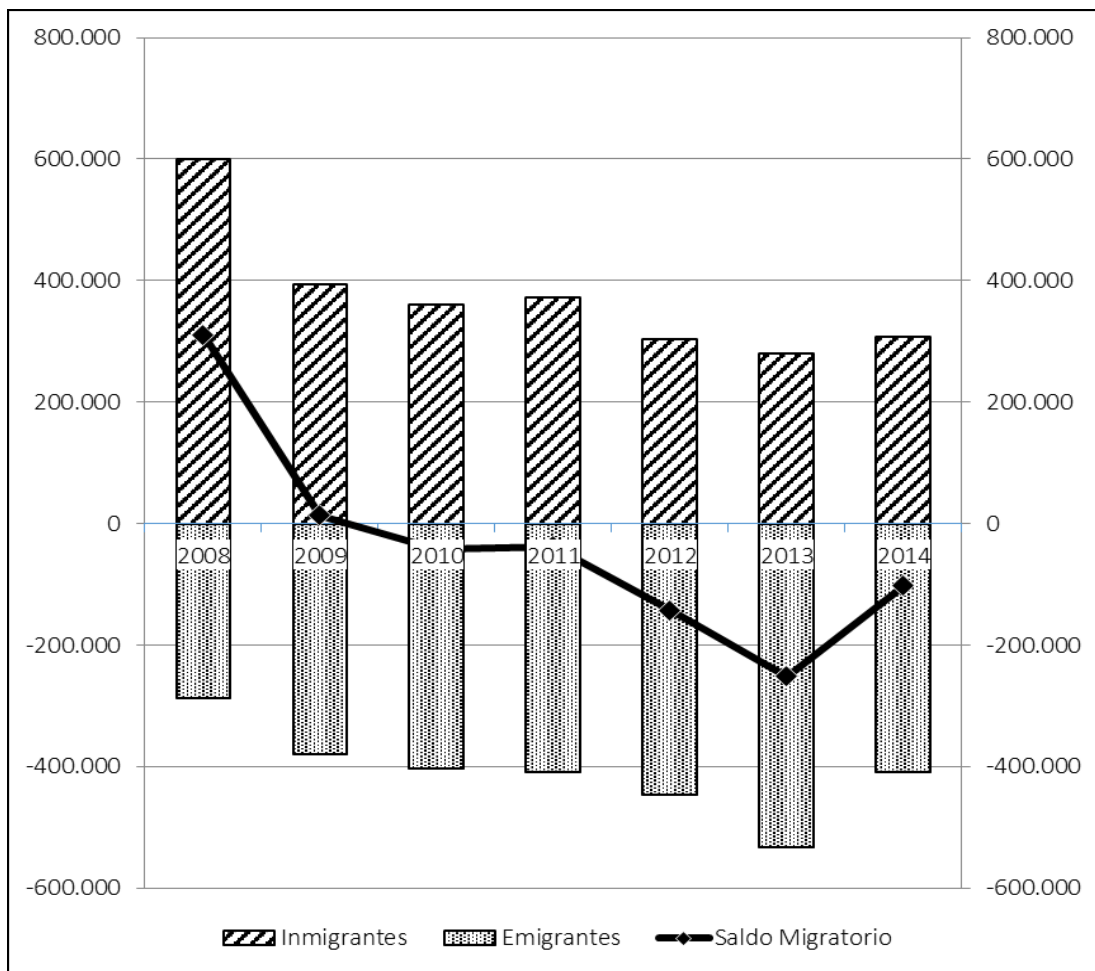
*Puntuación máxima: 4 Puntos.*

### 3ª Parte

**Comentario del gráfico:** Realice un comentario del presente gráfico “**Migraciones exteriores en España: inmigrantes, emigrantes y saldo desde 2008 a 2014**”. Explique las razones de las variaciones que se producen en dicho periodo, y, señale algunas consecuencias.

*Puntuación máxima: 2,5 puntos.*

#### “Migraciones exteriores en España: inmigrantes, emigrantes y saldo desde 2008 a 2014”

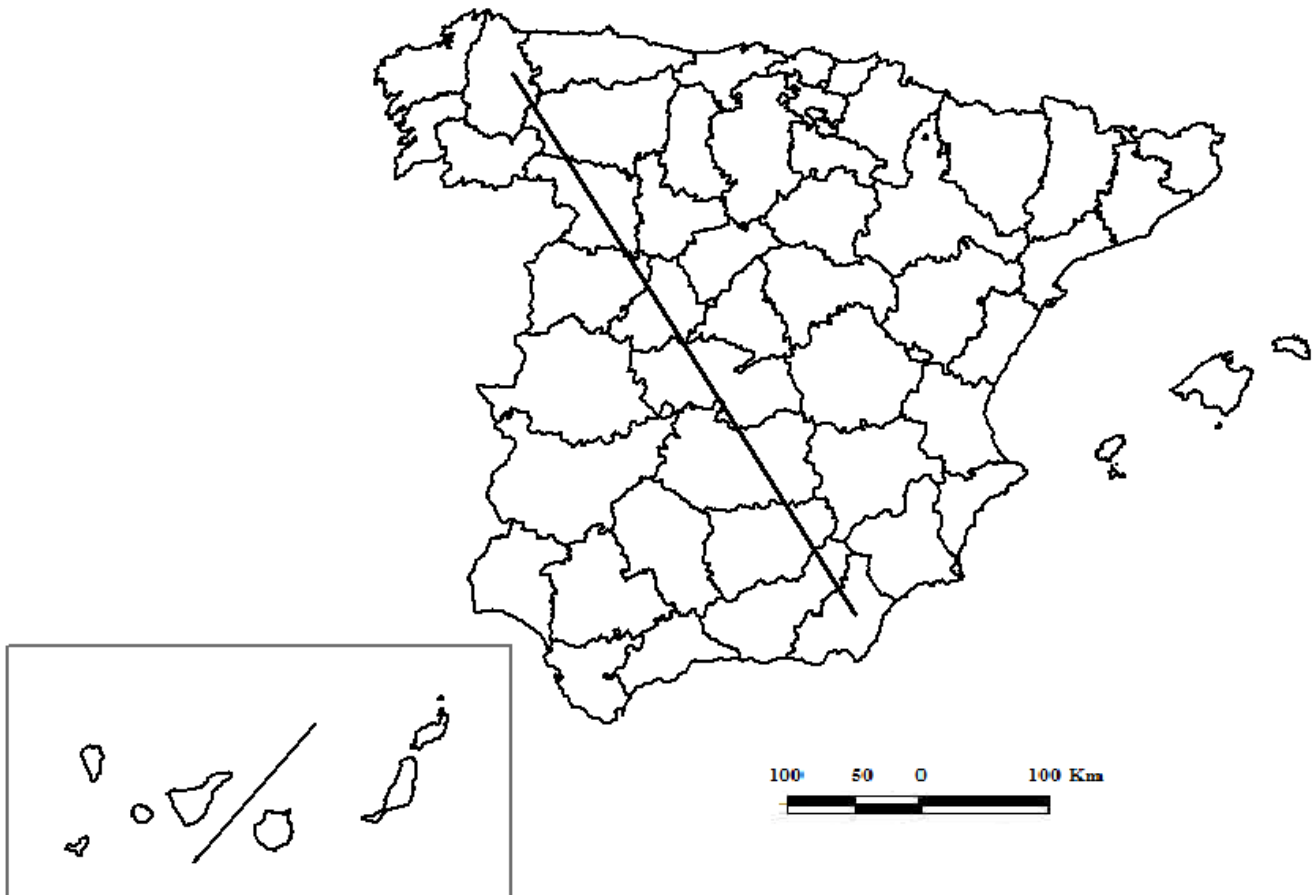


FUENTE INE 2014

#### 4ª Parte

A la vista del mapa adjunto, “*Transecto NW – SE*”, indique el nombre de las provincias atravesadas por el mismo y comente las grandes unidades de relieve por las que discurre.

*Puntuación máxima 2 puntos*



## OPCIÓN B

### 1ª Parte

Defina, en el cuadernillo adjunto, **seis** de los siguientes términos o conceptos geográficos, utilizando como máximo una cara del cuadernillo:

**Zócalo, Acuífero, Openfield, Caladero, Maquia, Tierra cultivable, Isoterma, Renta per cápita.**

*Puntuación máxima: 1,5 puntos*

### 2ª Parte Tema: El agua en España.

Desarrolle, de manera sintética, el tema propuesto (utilice, como máximo, ambas caras de un folio), atendiendo al menos a los siguientes aspectos:

- Vertientes y cuencas hidrográficas.
- Principales ríos y características de sus cuencas fluviales.
- Aprovechamiento de los ríos en las actividades humanas

*Puntuación máxima: 4 puntos*

### 3ª Parte

**Comentario de la fotografía adjunta:** Comente el paisaje de la lámina adjunta, atendiendo, al menos, a: a) Unidades del paisaje; b) Los usos del suelo; c) Manifestaciones espaciales de las actividades económicas y del poblamiento.

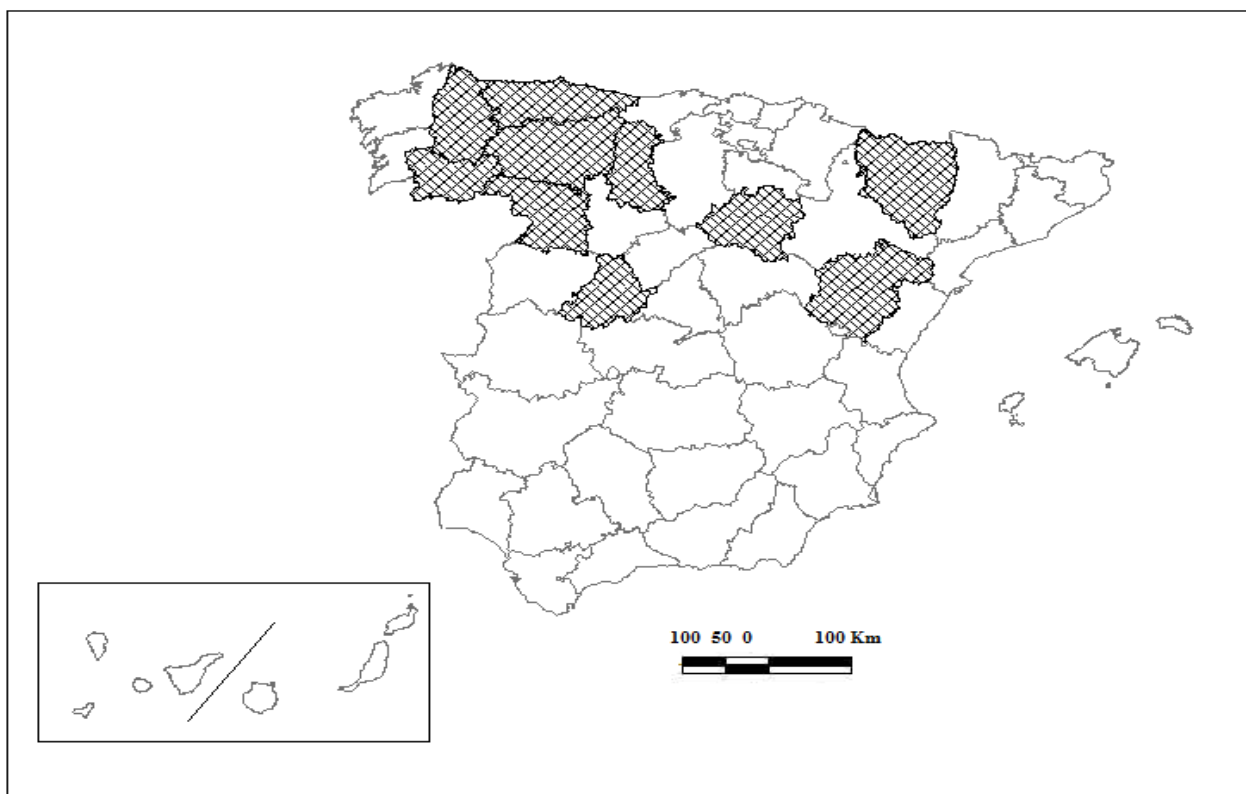
*Puntuación máxima: 2,5 puntos*

### 4ª Parte:

A la vista del mapa adjunto, **“Provincias con una Tasa Bruta de Mortalidad superior al 11 por mil” en el año 2014, (media nacional 8,46 por mil)**; indique el nombre de las provincias tramadas pertenecientes a dicha categoría; señale las razones que explican esta distribución y comente algunas consecuencias emanadas de este hecho.

*Puntuación máxima: 2 puntos.*

### Mapa de las provincias con una tasa de mortalidad superior al 11 por mil en el año 2014



FUENTE: INEBASE.



## GEOGRAFÍA

### CRITERIOS ESPECÍFICOS DE CORRECCIÓN Y CALIFICACIÓN

#### A) CRITERIO GENERAL:

La puntuación total será, en ambas pruebas, de **10 puntos**, correspondiendo a la primera parte **1'5 puntos**; a la segunda, **4 puntos**; a la tercera, **2'5 puntos**, y a la cuarta, **2 puntos**. La estructura y los criterios de corrección serán los siguientes, tanto para la **Opción A** como para la **Opción B**.

#### B) CRITERIOS CONCRETOS:

**1ª. Primera parte:** *1,5 puntos* (cada término o concepto: *0'25 puntos*).

*Definición* de una serie de *términos geográficos y conceptos*. Las respuestas deberán valorarse con un criterio amplio, ya que son numerosas las posibilidades expresivas correctas. En todo caso, se atenderá a la precisión geográfica en la caracterización del término o concepto, y a la claridad conceptual.

**2ª. Segunda parte:** *4 puntos*

Trata del “*desarrollo de un tema*”, valorando fundamentalmente la ordenación, la estructuración, la coherencia expositivo-argumentativa; la claridad, la precisión y la organización sintética de los conocimientos, junto con la correcta localización, la comprensión y caracterización de los fenómenos geográficos que se suman al grado y profundidad de los conocimientos.

**3ª. Tercera parte:** *2,5 puntos*

Propone “*el comentario de un documento geográfico*”.

**4ª. Cuarta parte:** *2 puntos*

Presenta unos *mapas* cuyo comentario tiene una puntuación máxima de **2 puntos**; en ellos debe atenderse a la correcta localización y caracterización de los elementos solicitados.

**En las cuatro partes de que consta la prueba, se considerarán elementos de ponderación; v.gr.: la calidad de la redacción, la corrección expositivo-argumentativa, la gramatical y la ortográfica.**